

TD2 : Matrice & Graphes

Module M3204

Fayssal Benkhaldoune, Rushed Kanawati
IUTV - Département R&T

28 octobre 2015

Exercice 1

Parmi les matrices suivantes quelles sont celles que l'on peut multiplier ? Effectuer 3 multiplications possibles.

$$A = \begin{bmatrix} -1 & 5 & -1 \\ 2 & 0 & 3 \end{bmatrix} \quad B = \begin{bmatrix} -1 & 5 & -1 \\ 2 & 0 & 3 \\ 0 & 1 & 4 \end{bmatrix} \quad C = \begin{bmatrix} -1 & 5 \\ 2 & -2 \\ 0 & 1 \end{bmatrix}$$

Une matrice A peut être multipliée par une matrice B si le nombre de colonnes de A est égale au nombre de lignes de B . Nous modélisons notre problème sous forme de graphe orienté. Chaque matrice est représentée par un sommet. Une arête relie un sommet X à un sommet Y si on peut multiplier la matrice X par la matrice Y . Noter que les boucles sont autorisées dans un tel graphe (une matrice peut être multipliée par elle-même). Le nombre d'arêtes potentiels dans un graphe dirigé avec boucles est n^2 où n est le nombre de sommets. Donc dans notre cas on a $3^2 = 9$ combinaisons à examiner. Le graphe illustré à la figure 1 donne les multiplications possible : $A \times B, A \times C, B \times B, B \times C, C \times A$

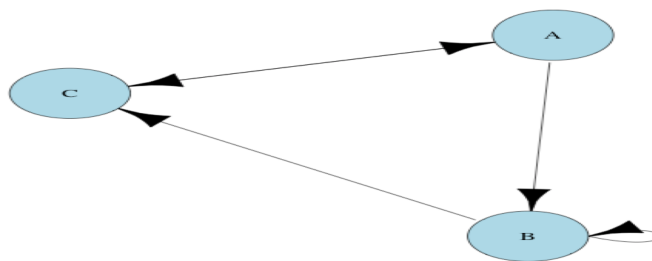


FIGURE 1 – Graphe modélisant les multiplications de matrices possibles

$$A \times B = \begin{bmatrix} 11 & -6 & 12 \\ -2 & 13 & 10 \end{bmatrix}$$

$$A \times C = \begin{bmatrix} 11 & -16 \\ -2 & 13 \end{bmatrix}$$

$$B \times B = \begin{bmatrix} 11 & -6 & 12 \\ -2 & 13 & 10 \\ 2 & 4 & 19 \end{bmatrix}$$

Exercice 2

- 1 Vérifier sur un exemple la propriété : $(A.B)^t = B^t.A^t$

$$(A.I)^t = A^t = I.A^t = I^t.A^t$$

- 2 Utiliser la propriété précédente pour démontrer que si A est une matrice carrée inversible, alors $(A^t)^{-1} = (A^{-1})^t$

$$(AA^{-1})^t = (A^{-1})^t A^t = I^t = I \Rightarrow (A^{-1})^t = (A^t)^{-1}$$

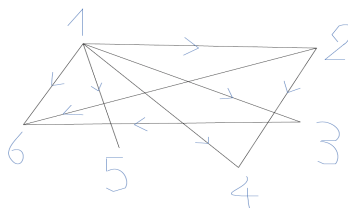
Exercice 3

Trouver 2 matrices A et B de dimensions 2×2 , non nulles telles que $A.B = 0$

$$A = \begin{bmatrix} 1 & 1 \\ 2 & 2 \end{bmatrix} B = \begin{bmatrix} 1 & 0 \\ -1 & 0 \end{bmatrix}$$

Exercice 4

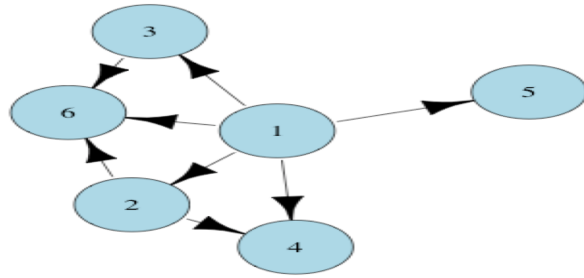
Soit le graphe dont une représentation sagittale est la suivante :



- 1 Proposer une représentation sagittale plus simple.

- 2 Evaluer $d_-(6)$, $d_+(2)$, $\sum d(x)$ et vérifier le théorème des poignées de main.

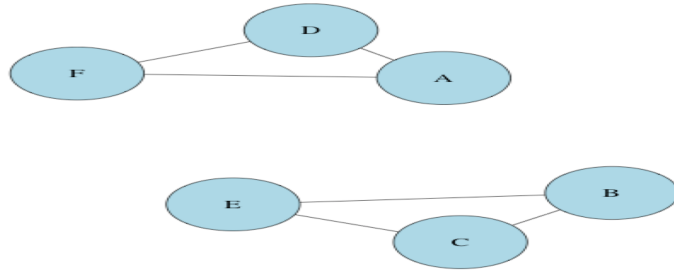
Le théorème des poignées de main est bien vérifié comme la somme des degrés entrant est égale à la somme des degrés sortants.



	1	2	3	4	5	6	Σ
d_-	0	1	1	2	1	3	8
d_+	5	2	1	0	0	0	8

Exercice 5

Faire une représentation sagittale simple et proposer une propriété caractéristique du graphe non orienté suivant : $S = \{A = -3, B = 5, C = 14, D = 15, E = 23, F = 24\}$ et $A = \{(A, D), (A, F), (B, C), (B, E), (C, E), (D, F)\}$



Le graphe obtenu est un graphe régulier puisque tous les nœuds ont le même degrés (en occurrence 2), et il est non connexe.

Exercice 6

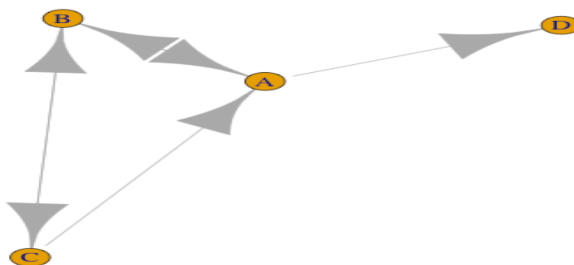
Soit le graphe orienté défini par $S = \{A = 1, B = 2\}$ et $A = \{(A, A), (A, B), (B, B)\}$. Quel est le nombre de chemins de longueurs 4 de A vers B ? Décrire ces chemins. Vérifier par un calcul matriciel.

4 chemins : $AA-AA-AA-AB$, $AA-AA-AB-BB$, AA , $AB-BB-BB$, $AB-BB-BB-BB$.
 La matrice d'adjacence du graphe est

$$A = \begin{bmatrix} 1 & 1 \\ 0 & 1 \end{bmatrix} \quad A^4 = \begin{bmatrix} 1 & 4 \\ 0 & 1 \end{bmatrix}$$

Exercice 7

Faire une représentation sagittale simple du graphe orienté suivant : $S = \{A = 1, B = 2, C = 3\}$
 $A = \{(A, D), (A, B), (B, A), (B, C), (C, B), (C, A)\}$. Donner le nombre et décrire les chemins de longueur 3, de A vers B , de B vers C et de C vers C .



La matrice d'adjacence du graphe est le suivant pour les nœuds **numérotés comme suit A,D,B,C** :

$$A = \begin{bmatrix} 0 & 1 & 1 & 0 \\ 0 & 0 & 0 & 0 \\ 1 & 0 & 0 & 1 \\ 1 & 0 & 1 & 0 \end{bmatrix} \quad A^3 = \begin{bmatrix} 1 & 1 & 2 & 0 \\ 0 & 0 & 0 & 0 \\ 2 & 1 & 1 & 2 \\ 2 & 1 & 2 & 1 \end{bmatrix}$$

On a deux chemins de longueur 3 de A vers B : $AB-BA-AB$ et $AB-BC-CB$

On a deux chemins de longueur 3 de B vers C : $BC-CB-BC$ et $BA-AB-BC$

On a un seul chemin de longueur 3 de C vers C : $CA-AB-BC$